

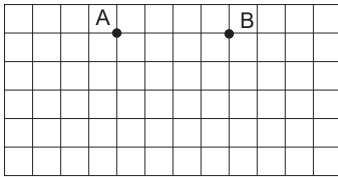


06. 200'ün %50'si kaçtır?

07. Aşağıdaki geometrik şekli sembolle gösteriniz.

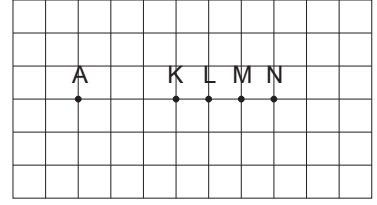


08.



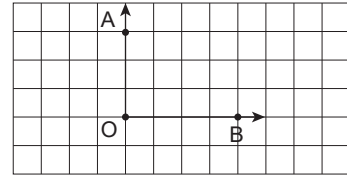
Yukarıdaki şekle göre, A noktasının B noktasına göre konumunu yazınız.

09.



Birim karelerle oluşturulan zeminde A noktasının, 5 birim sağındaki nokta aşağıdakilerden hangisidir?

10.



Yukarıdaki şekilde verilen açı, dik, dar ve geniş açıdan hangisine örnektir?